

Feuille d'exercices CE2

Mathématiques CE2 :

- Problème :

Chalumo le grand dragon rouge adore manger des citrouilles. Il en a chapardé 82 pendant l'automne et s'en ai fait une réserve. Il en a déjà mangé 29 et un ogre lui en a dérobé 26.

Combien de citrouilles lui reste-t-il ?

Dessin :	Calcul :
	Réponse :

- Géométrie :



Géométrie

Fiche 1

Les solides

1 Je colorie les figures qui sont des solides



2 Je relie les objets à leurs empreintes.



Français CE2 :

- Lecture compréhension :

Exercice 1

Complète les phrases en choisissant un des trois connecteurs proposés.

....., il a participé à une réunion,, il est allé

Demain,
Aujourd'hui,
Hier matin,

enfin
d'abord
puis

au cocktail., il a dîné au restaurant avec ses amis.

Pour finir,
D'abord,
Demain

Exercice 2

Numérote les phrases du texte en ordre.

Que deviennent les fleurs du cerisier ?

	Enfin, au bout de quelques semaines, les rameaux portent des cerises.
	Puis les différentes parties de la fleur se fanent et tombent et des petites boules vertes restent au bout des rameaux.
	Peu à peu, ces boules vertes grossissent.
	D'abord les fleurs du cerisier sont enfermées dans des bourgeons qui grossissent puis s'ouvrent et des pétales s'épanouissent.

Surligne en jaune ce qui t'a permis de remettre en ordre ce texte.

Exercice 3

Trouve les mots qui permettent de compléter le texte :

Maman commence à réaliser mon déguisement le défilé de carnaval du quartier. Elle conçoitle patron, découpe le vêtement dans l'étoffe. elle le coud et brode des fleurs autour du col.

corrigés

- Numération :

Range dans l'ordre croissant.

1 203 - 1 230 - 1 320 - 3 120 - 3 210

Range dans l'ordre décroissant

4 432 - 4 123 - 3 435 - 1 056 - 1 023 -

- Problème :

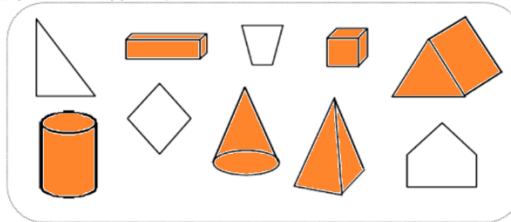
Chalumo le grand dragon rouge adore manger des citrouilles. Il en a chapardé 82 pendant l'automne et s'en ai fait une réserve. Il en a déjà mangé 29 et un ogre lui en a dérobé 26.

Combien de citrouilles lui reste-t-il ?



Dessin :	Calcul : $29 + 26 = 55$ $82 - 55 = 27$
	Réponse : Il lui reste 27 citrouilles.

- géométrie

1 Je colorie les figures qui sont des solides



2 Je relie les objets à leurs empreintes.



- grammaire :

Ce matin, le jardinier plante de jolies tulipes jaunes et rouges dans le parc.

Son collègue arrive avec la brouette.

Au cœur de la forêt, nous voyons un superbe lac.

- Orthographe :

Les grands draps jaunes et verts sèchent au soleil.

Les raisins noirs donnent des grappes juteuses.

Les enfants courageux sauvent un bébé.

Mes genoux sont éraflés.

- Lecture compréhension :

Exercice 1

Complète les phrases en choisissant un des trois connecteurs proposés.

....., il a participé à une réunion,, il est allé

Demain, Aujourd'hui, Hier matin.
--

enfin d'abord puis

au cocktail., il a dîné au restaurant avec ses amis.

Pour finir, D'abord, Demain

Exercice 2

Numérote les phrases du texte en ordre.

Que deviennent les fleurs du cerisier ?

4	Enfin, au bout de quelques semaines, les rameaux portent des cerises.
2	Puis les différentes parties de la fleur se fanent et tombent et des petites boules vertes restent au bout des rameaux.
3	Peu à peu, ces boules vertes grossissent.
1	D'abord les fleurs du cerisier sont enfermées dans des bourgeons qui grossissent puis s'ouvrent et des pétales s'épanouissent.

Surligne en jaune ce qui t'a permis de remettre en ordre ce texte.

Exercice 3

Trouve les mots qui permettent de compléter le texte :

Maman commence à réaliser mon déguisement pour le défilé de carnaval du quartier. Elle conçoit d'abord le patron, puis découpe le vêtement dans l'étoffe. enfin elle le coud et brode des fleurs autour du col.