

Feuille d'exercices CE1

Mathématiques CE1

Problème :

Thérèse la fraise veut inviter ses amis des bois et ses amis des champs pour son anniversaire. Il y a 343 amis des bois et 475 amis des champs.

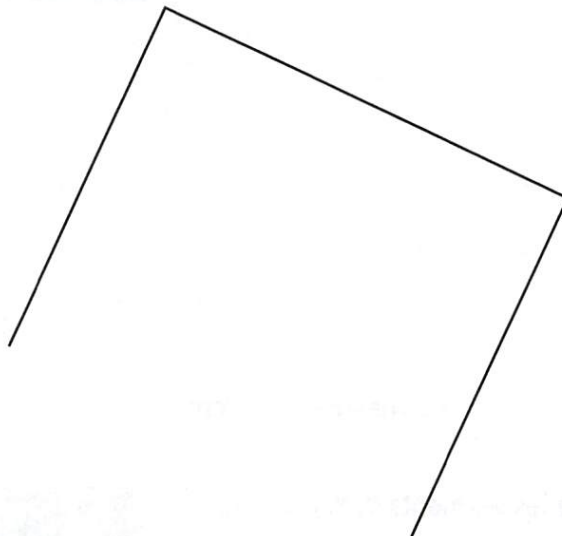
Peux-tu l'aider à compter le nombre d'invités ?

Dessin :	Calcul :
	Réponse :

Géométrie

Compléter un carré et un rectangle


A Termine la construction du carré.



Reconnaitre des formes

- A** Entoure les lettres des figures qui sont des polygones.
- B** Écris les lettres de tous les carrés qui ont été tracés avec le gabarit carré.

Vérifie tes réponses avec le gabarit.



Français CE1

Vocabulaire

Classe les mots dans l'ordre alphabétique.

bouquin - complet - intégral - complètement - ouvrage - peureux - entièrement - trouillard

Production d'écrit

Un génie te propose de faire trois vœux. Quels vœux fais-tu ? Que peux-tu faire ensuite pour le remercier ?

Corrigés

Numération

57 = cinquante-sept

68 = soixante-huit

32 = trente-deux

45 = quarante-cinq

73 = soixante-treize

290 : deux-cent-quatre-vingt-dix

508 : cinq cent-huit

785 : sept-cent-quatre-vingt-cinq

32 < 45 < 57 < 68 < 73 < 290 < 508 < 785

Problème

Thérèse la fraise veut inviter ses amis des bois et ses amis des champs pour son anniversaire. Il y a 343 amis des bois et 475 amis des champs.

Peux-tu l'aider à compter le nombre d'invités ?


Dessin :	Calcul :
	$343 + 475 = 818$
	Réponse :
	Il y aura 818 invités.

Géométrie

Les figures a, c, d, e, g, h, i, j, k, l, m, n, o sont des polygones.

Les figures d, h, m et j ont été tracés avec le même gabarit.

Calcul posé


$$\begin{array}{r} 403 \\ -168 \\ \hline 235 \end{array}$$

Vocabulaire

bouquin - complet - complètement - entièrement - intégral - ouvrage - peureux - trouillard