

Feuille d'exercices CE1

Mathématiques CE1 :

- Problème :

Alicia a acheté 3 filets contenant chacun 5 oranges. Elle a également acheté 4 poires.

Combien de fruits a-t-elle achetés en tout ?

Dessin :	Calcul :
	Réponse :

- Géométrie

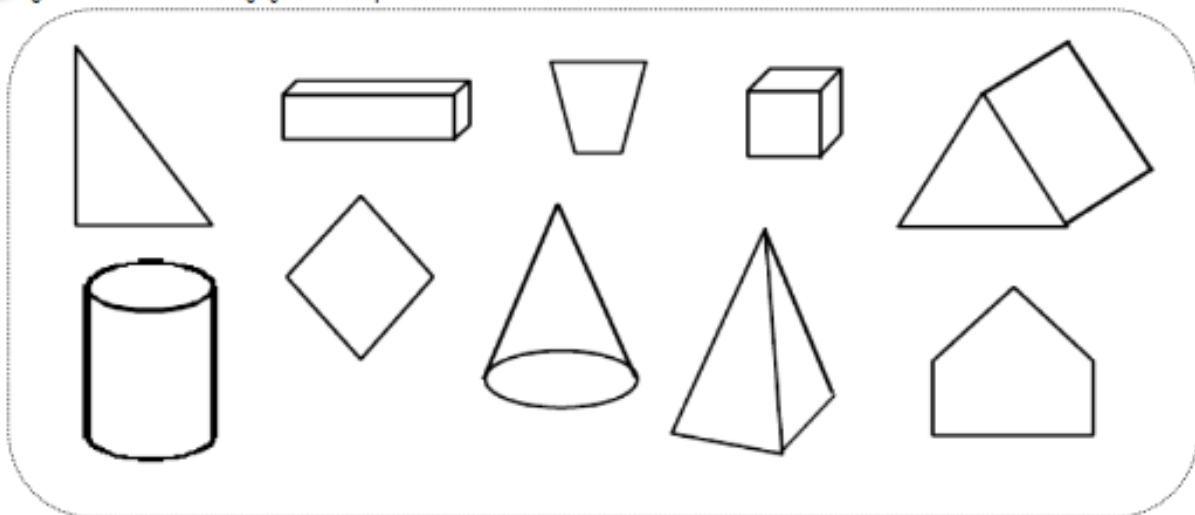


Géométrie


Fiche 1

Les solides

1 Je colorie les figures qui sont des solides



2 Je relie les objets à leurs empreintes.



Français CE1 :

• Lecture compréhension :

Exercice 1 : Tanguy a des ennuis.

- « Oui, je sais, je suis en retard, Madame Réglécaillet. Je vous prie de bien vouloir m'en excuser. En vérité, je suis tombé dans une bouche d'égouts et j'ai mis une bonne heure à m'en sortir. Après je suis retourné à la maison pour me doucher. J'allais pas revenir à l'école avec un rat dans mon slip, tout de même ?... »

<http://www.pour-enfants.fr/histoires-textes/retard.htm>

Numérote les actions dans l'ordre où Tanguy les a faites :

- Tanguy est en retard à l'école.
- Tanguy est tombé dans une bouche d'égouts.
- Tanguy a pris une douche.

Exercice 2 : Promenade sous la neige

Trace l'itinéraire de Jean.



C'est mercredi, Jean est en route pour aller chez Julie qui l'a invité pour le goûter. Ce matin, il a beaucoup neigé. Aussi Jean décide-t-il de faire d'abord une promenade dans la neige fraîche qui recouvre les rues du village. Il passe entre la poste et les deux sapins, tourne à droite, passe derrière les maisons de Tom et Laure puis devant l'école avant de traverser la place pour rejoindre la maison de son amie et profiter d'un bon goûter, bien au chaud devant la cheminée.

FH

Dans le texte, surligne les mots qui t'ont aidé à trouver le bon chemin.

Corrigés

- Numération :

Range dans l'ordre croissant (du plus petit au plus grand)

92 - 260 - 318 - 620 - 718

- Problème :

Alicia a acheté 3 filets contenant chacun 5 oranges. Elle a également acheté 4 poires.

Combien de fruits a-t-elle achetés en tout ?

Dessin :	Calcul :
	$3 \times 5 = 15$ $15 + 4 = 19$
	Réponse :
	Elle a acheté 19 fruits.

- géométrie:

Géométrie
Fiche 1

Les solides

1 Je colorie les figures qui sont des solides

2 Je relie les objets à leurs empreintes.

• grammaire :

Ce matin, le jardinier plante de jolies tulipes jaunes et rouges dans le parc.

Son collègue arrive avec la brouette.

Au cœur de la forêt, nous voyons un superbe lac.

• orthographe :

Les grands draps jaunes et verts sèchent au soleil.

Les raisins noirs donnent des grappes juteuses.

Les enfants courageux sauvent un bébé.

Exercice 1 : Tanguy a des ennuis.

- « Oui, je sais, je suis en retard, Madame Réglécaillet. Je vous prie de bien vouloir m'en excuser. En vérité, je suis tombé dans une bouche d'égouts et j'ai mis une bonne heure à m'en sortir. Après je suis retourné à la maison pour me doucher. J'allais pas revenir à l'école avec un rat dans mon slip, tout de même ?... »

<http://www.pour-enfants.fr/histoires-textes/retard.htm>

Numérote les actions dans l'ordre où Tanguy les a faites :



Tanguy est en retard à l'école.



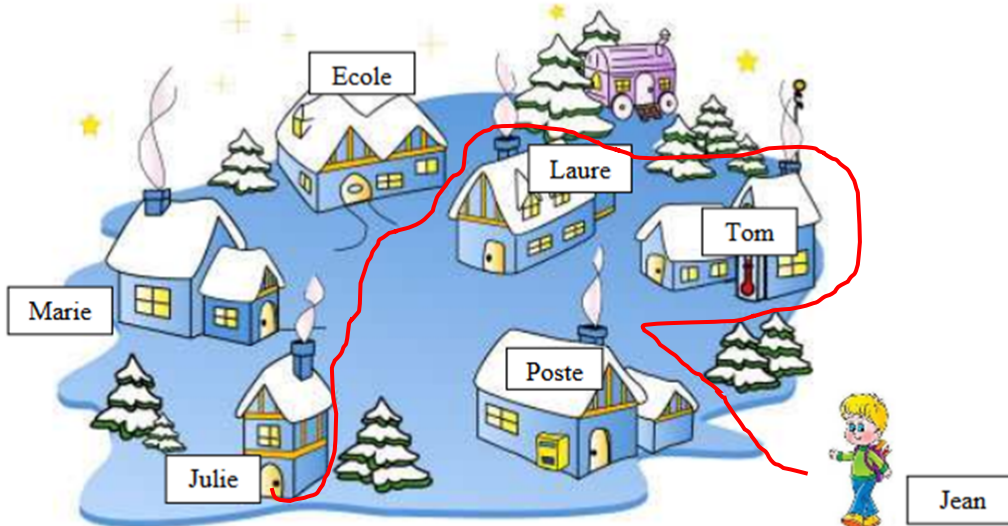
Tanguy est tombé dans une bouche d'égouts.



Tanguy a pris une douche.

Exercice 2 : Promenade sous la neige

Trace l'itinéraire de Jean.



C'est mercredi, Jean est en route pour aller chez Julie qui l'a invité pour le goûter.

Ce matin, il a beaucoup neigé. Aussi Jean décide-t-il de faire d'abord une promenade dans la neige fraîche qui recouvre les rues du village.

Il passe entre la poste et les deux sapins, tourne à droite, passe derrière les maisons de Tom et Laure puis devant l'école avant de traverser la place pour rejoindre la maison de son amie et profiter d'un bon goûter, bien au chaud devant la cheminée.

FH

Dans le texte, surligne les mots qui t'ont aidé à trouver le bon chemin.