

Feuille d'exercices CM1

Mathématiques CM1:

- Numération

Range dans l'ordre croissant.

216 795 - 89 679 - 217 975 - 210 983 - 97 968 - 87 969 - 216 579 - 97 896 - 210 893

.....

Range dans l'ordre décroissant.

11 054 - 11 902 - 978 964 - 9 897 - 101 145 - 11 209 - 10 145 - 100 154 - 9 901 - 987 694

.....

- Problème :

La maîtresse de la classe achète 6 dictionnaires. Elle paie 42 euros.

Quel est le prix de chaque dictionnaire ?

Dessin :	Calcul :
	Réponse :

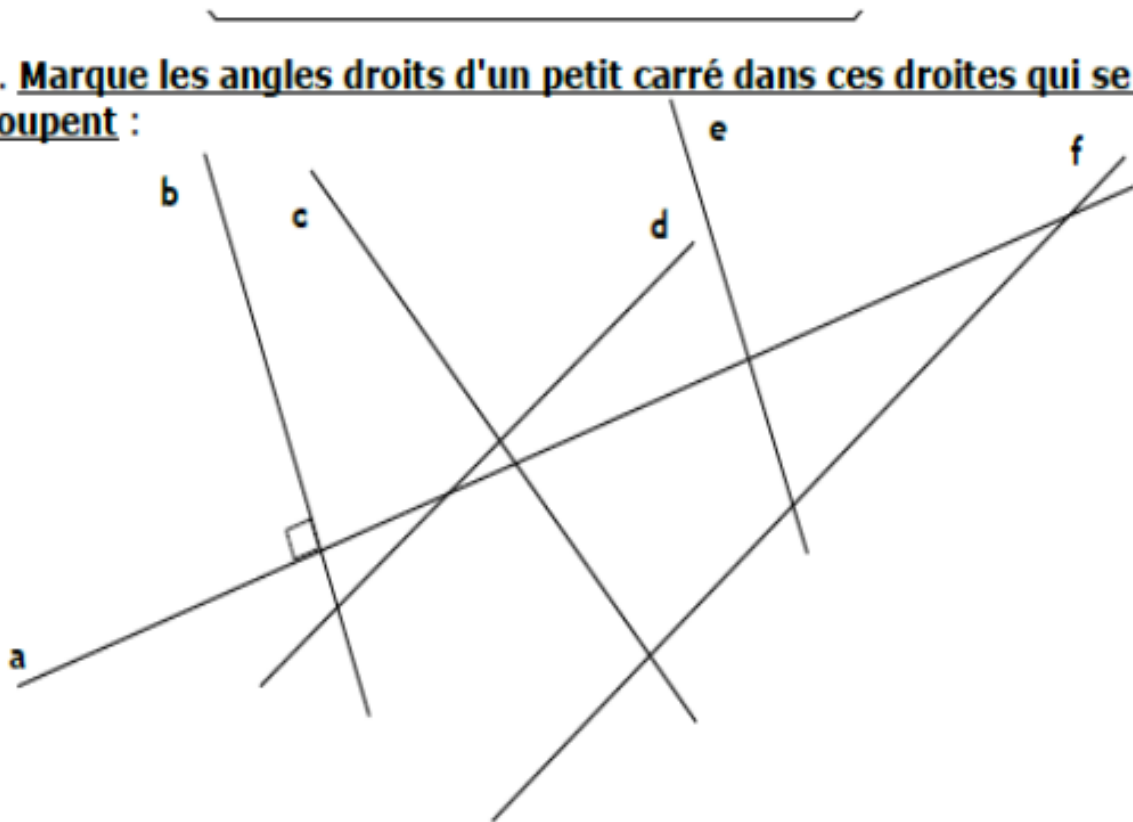
- géométrie :

GEOMETRIE CM1


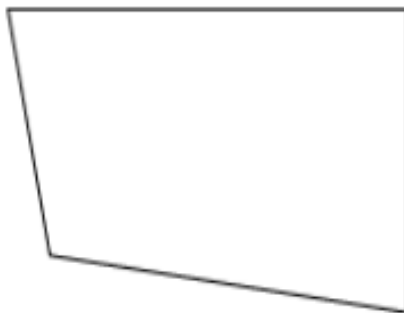
Vidéos pour aider : <https://urlz.fr/crmn> <https://urlz.fr/crm4> <https://urlz.fr/crm7>

Utilise ton équerre et ta règle.

2. Marque les angles droits d'un petit carré dans ces droites qui se coupent :



3. Colorie les angles droits de ces figures :



Français CM1:

- Grammaire

1) Classe les mots correctement.

menteur - intéressant - compense - ment - compensation - intéresse - soulèvement - soulève - intérêt - énerve - nerf - compensé - soulevé - nerveuse - mensonger

Nom	Verbe	Adjectif

2) Indique si l'élément souligné est un "verbe", un "nom commun" ou un "adjectif".

- a) Miguel compte vraiment très vite.
- b) Il a ouvert un compte dans ma banque.
- c) Il a un creux au niveau du front.
- d) Cette troupe utilise des tubes creux pour faire de la musique.
- e) Ma mère achète souvent des conserves.
- f) Tu conserves encore tes amis d'enfance.
- g) Elle active son réseau pour trouver un emploi.
- h) Ma grand-mère est toujours très active.

3) Recopie les phrases, souligne les noms et entoure les déterminants.

- a) Nous retrouvons des amis après le déjeuner.
- b) Les courageux cyclistes grimpent la côte abrupte.
- c) Je déteste l'odeur de tes bougies parfumées.
- d) Mon écrivain préféré a publié son dernier roman.
- e) N'oublie pas d'enlever tes chaussures en rentrant.

- Lecture compréhension :



Réponds aux questions suivantes sur ton cahier du jour . Fais des phrases :

- 1) Regarde le tableau ci-dessus. Est-ce que tu l'as déjà vu ?
- 2) Est-ce qu'il te surprend ?
- 3) Décris le paysage, en commençant par le premier plan et en finissant par le ciel. Aide-toi de la boîte à mots.
- 4) Qu'y a-t-il autour de chaque étoile ? Et au milieu du tableau ? Quel effet cela crée-t-il ?

La folie ou la sagesse ?

Van Gogh a vécu dans la misère. Il souffrait de ce que le public n'appréciait pas sa peinture (il n'a vendu qu'une seule toile durant toute sa vie). Il a progressivement sombré dans la folie.

Il a peint cette toile quand il était à l'hôpital psychiatrique. Un an après, il s'est suicidé. Certains voient dans ce tableau le signe de sa folie.

5) Quels éléments pourraient le confirmer ?

D'autres, au contraire, pensent qu'il s'agit d'une œuvre sereine, dans laquelle Van Gogh s'émerveille face à la nature.

6) Et toi, ressens-tu plutôt de la folie ou de la sérénité face à ce tableau ?

ma boîte à mots

- Pour décrire la position des objets ou des personnages :

le premier plan – devant – au centre – de face –
le second plan – l'arrière-plan – derrière –
au fond – au loin – à droite – à gauche –
dans la partie supérieure / inférieure

- Pour décrire les couleurs :

vives – lumineuses – dominantes – douces –
contrastées – claires – sombres – froides –
chaudes – éblouissantes...

corrigés:

- Calcul mental

Donne le double, le triple et le quadruple de :

7 : 14, 21, 28 9 : 18, 27, 36 6 : 12, 18, 24 8 : 16, 24, 32 10 : 20, 30, 40
12 : 24, 36, 48 20 : 40, 60, 80 15 : 30, 45, 60 14 : 28, 42, 56 25 : 50, 75, 100
45 : 90, 135, 180

Donne la moitié et le tiers de :

30 : 15, 10 - 90 : 45, 30

Donne la moitié et le quart de :

100 : 50, 25 - 120 : 60, 30

- Numération :

Range dans l'ordre croissant.

87 969 < 89 679 < 97 896 < 97 968 < 210 893 < 210 983 < 216 579 < 216 795 < 217 975

Range dans l'ordre décroissant

987 694 > 978 964 > 101 145 > 100 154 > 11 902 > 11 209 > 11 054 > 10 145 > 9 901 > 9 897

- Problème :

La maîtresse de la classe achète 6 dictionnaires. Elle paie 42 euros.

Quel est le prix de chaque dictionnaire ?

Dessin :	Calcul : $42 : 6 = 7$
	Réponse : Un dictionnaire coute 7€.

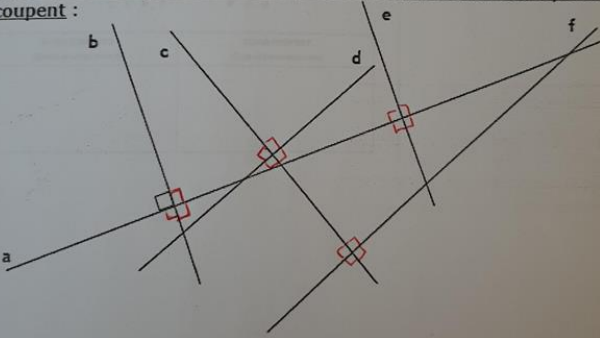
- Calculs posés

$$\begin{array}{r}
 1010 \quad 101010 \\
 - 662 \quad 1093 \\
 \hline
 37 \quad 907
 \end{array}$$

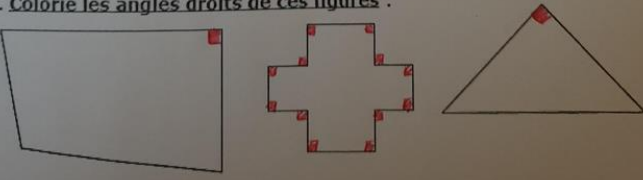
$$\begin{array}{r}
 4 \quad 3 \\
 5 \quad 1 \quad 4 \\
 4 \quad 8 \quad 1 \quad 7 \\
 \times \quad 5 \quad 1 \quad 7 \\
 \hline
 2 \quad 1 \\
 3 \quad 3 \quad 7 \quad 1 \quad 9 \\
 4 \quad 8 \quad 1 \quad 7 \cdot \\
 \hline
 2 \quad 4 \quad 0 \quad 8 \quad 5 \cdot \cdot \\
 \hline
 2 \quad 4 \quad 9 \quad 0 \quad 3 \quad 8 \quad 9
 \end{array}$$

• **Géométrie**

2. Marque les angles droits d'un petit carré dans ces droites qui se coupent :



3. Colorie les angles droits de ces figures :



• **Grammaire** :

Exercice 1

Nom	Verbe	Adjectif
soulèvement	soulève	soulevé
compensation	compense	compensé
intérêt	intéresse	intéressant
menteur	ment	mensonger
nerf	énerve	nerveuse

Exercice 2

- compte** : verbe
- compte** : nom commun
- creux** : nom commun
- creux** : adjectif
- conserves.** : nom commun
- conserves** : verbe
- active** : verbe
- active.** : adjectif

Exercice 3

- des** : déterminant / **amis** : nom commun / **le** : déterminant / **déjeuner.** : nom commun
- Les** : déterminant / **cyclistes** : nom commun / **la** : déterminant / **côte** : nom commun
- l'** : déterminant / **odeur** : nom commun / **tes** : déterminant / **bougies** : nom commun
- Mon** : déterminant / **écrivain** : nom commun / **son** : déterminant / **roman.** : nom commun
- tes** : déterminant / **chaussures** : nom commun

• Lecture compréhension

- 1) Regarde le tableau ci-dessus. Est-ce que tu l'as déjà vu ?
- 2) Est-ce qu'il te surprend ?
- 3) Décris le paysage, en commençant par le premier plan et en finissant par le ciel. Aide-toi de la boîte à mots.

Quelques éléments :

- Au premier plan à gauche : très grand arbre,
- Au deuxième plan : un petit village,
- Au plan : un beau ciel étoilé
- Des couleurs lumineuses pour les astres : étoiles et lunes qui semblent briller,
- Une dominante bleue pour le ciel,
- Des couleurs plus sombres pour le village et l'arbre....

4) Qu'y a-t-il autour de chaque étoile ? Et au milieu du tableau ? Quel effet cela crée-t-il ?

Autour de chaque étoile et au milieu du tableau, il y a plusieurs petits traits de couleurs clairs. Ils donnent un effet de mouvement. Les étoiles et la lune semblent briller.

Les réponses aux questions 1, 2, 5, 6 et 7 sont propres à chaque élève.