

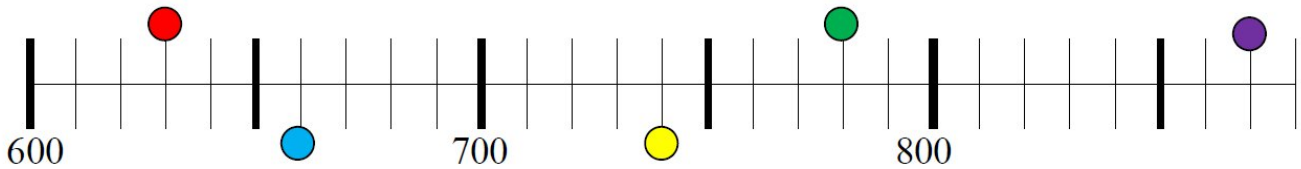
# Feuille d'exercices CE2

## Mathématiques CE2:

- Numération :

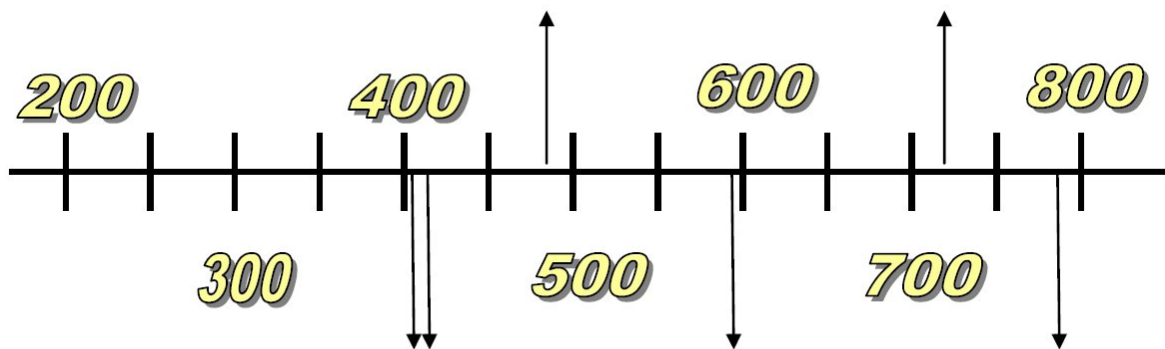
Retrouve la boule de couleur qui correspond à chacun des nombres ci-dessous

870 - 630 - 780 - 660 - 740



Quelle flèche représente chacun des nombres ci-dessous

599 - 401 - 783 - 480 - 410 - 732



• **Problème**

Un magasin de sport reçoit d'un fournisseur\* une commande de chaussures de jogging\* ainsi détaillée :

- 18 paires du modèle homme *Royal* à 24 € la paire ;
  - 10 paires du modèle homme *Tiger* à 31 € la paire ;
  - 12 paires du modèle femme *Diana* à 27 € la paire ;
  - 15 paires du modèle enfant *Petit Champion* à 13 € la paire.
- Calcule le montant total de la facture.



<b>Dessin :</b>	<b>Calcul :</b>
	<b>Réponse :</b> .....

• **Organisation et gestion de données**

Observe le tableau qui représente le nombre de passagers transportés par un téléphérique tout au long d'une journée.

<b>Départ</b>	8:00	9:00	10:00	11:00	12:00	14:00	15:00	16:00	17:00	18:00
<b>Nombre de voyageurs</b>	14	44	61	85	59	77	62	52	40	22

**1. Vrai ou faux ?**

- a) Il y a plus de voyageurs à 10 h qu'à 16 h.
- b) C'est au cours du 7<sup>e</sup> voyage qu'il y a le plus de passagers.

**2. Réponds aux questions.**

- a) À quelle heure de la journée n'y a-t-il pas de départ ?
- b) Combien de personnes ont été transportées de 8 h à 12 h ?
- c) Combien de personnes ont été transportées de 14 h à 18 h ?

## Français CE2:

- grammaire

Entoure le groupe sujet qui est remplacé par le pronom souligné

Elles font des châteaux . → La petite fille / Les petites filles

Elle fait un dessin. → La petite fille / Les petites filles

Il va chez le coiffeur. → Léo / Les trois enfants

Ils vont chez le coiffeur. → Léo / Les trois enfants

Remplace le groupe entre parenthèses par il, elle, ils ou elles

Avec son VTT, (Thibault) \_\_\_\_\_ franchit des troncs d'arbre et des rochers. (Sa cousine Sarah) \_\_\_\_\_ est plus prudente : lorsqu'(la petite fille) \_\_\_\_\_ rencontre un obstacle, elle ralentit l'allure. (Les deux enfants) \_\_\_\_\_ participent souvent aux épreuves du club. Mais (Sarah) \_\_\_\_\_ est la seule fille de l'équipe. (Les autres) \_\_\_\_\_ préfèrent des sports plus calmes, comme la danse.

Remplace les noms soulignés par un pronom personnel

Maman et moi sommes allés faire des courses. Maman et moi avons  
acheté un chat. Ce chat est blanc. Ce chat court après les souris. Mais  
les souris se cachent sous les meubles et le chat ne peut pas les  
attraper. Il y a une souris très maligne, la souris va manger dans la  
gamelle du chat, quand le chat dort.

- production d'écrit

Dessine et raconte ce qui a pu se passer



## Corrigés CE2

- Numération :

870 ●

780 ●

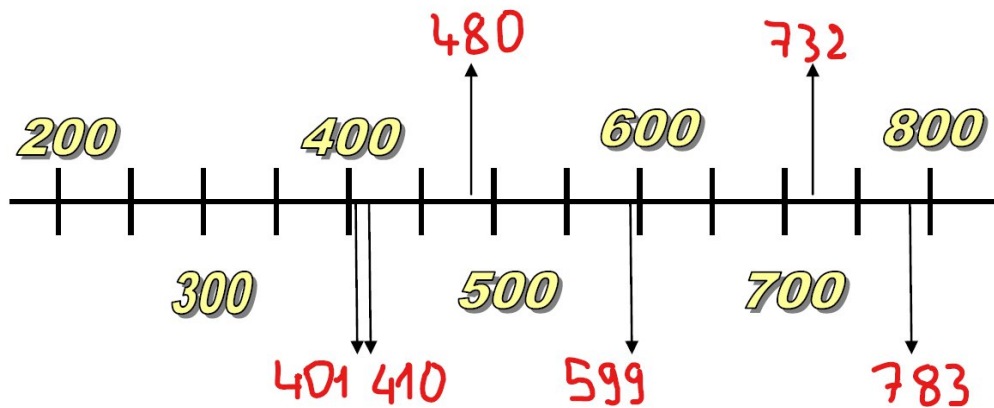
740 ●

630 ●

660 ●

Quelle flèche représente chacun des nombres ci-dessous

599 - 401 - 783 - 480 - 410 - 732



- Problèmes

Dessin :

Calcul :

$18 \times 24 = 432$  € pour les paires Royal

$10 \times 31 = 310$  € pour les paires Tiger

$12 \times 27 = 324$  € pour les paires Diana

$15 \times 13 = 195$  € pour les paires Petit Champion

$432 + 310 + 324 + 195 = 1\,261$ €

Réponse :

Le montant total de la facture est de 1 261€



- Organisation et gestion de données

Observe le tableau qui représente le nombre de passagers transportés par un téléphérique tout au long d'une journée.

Départ	8:00	9:00	10:00	11:00	12:00	14:00	15:00	16:00	17:00	18:00
Nombre de voyageurs	14	44	61	85	59	77	62	52	40	22

1. Vrai ou faux ?

- Il y a plus de voyageurs à 10 h qu'à 16 h.
- C'est au cours du 7<sup>e</sup> voyage qu'il y a le plus de passagers.

2. Réponds aux questions.

- À quelle heure de la journée n'y a-t-il pas de départ ?
- Combien de personnes ont été transportées de 8 h à 12 h ?
- Combien de personnes ont été transportées de 14 h à 18 h ?

1. a) Vrai  $61 > 52$

b) Faux (c'est au 4<sup>ème</sup> voyage)

2. a) 13h

b)  $14 + 44 + 61 + 85 + 59 = 263$  personnes ont été transportés de 8h à 12h.

c)  $77 + 62 + 52 + 40 + 22 = 253$  personnes ont été transportés de 14h à 18h.

- Grammaire

1)

Elles font des châteaux. → La petite fille / Les petites filles

Elle fait un dessin. → La petite fille / Les petites filles

Il va chez le coiffeur. → Léo / Les trois enfants

Ils vont chez le coiffeur. → Léo / Les trois enfants

2)

Avec son VTT, (Thibault) il franchit des troncs d'arbre et des rochers. (Sa cousine Sarah) Elle est plus prudente : lorsqu'(la petite fille) elle rencontre un obstacle, elle ralentit l'allure. (Les deux enfants) Ils participent souvent aux épreuves du club. Mais (Sarah) elle est la seule fille de l'équipe. (Les autres) Elles préfèrent des sports plus calmes, comme la danse.

3)

Maman et moi sommes allés faire des courses. Maman et moi avons acheté un chat. Nous Ce chat est blanc. Ce chat court après les souris. Mais les souris se cachent sous les meubles et le chat ne peut pas les elles attraper. Il y a une souris très maligne, il la souris va manger dans la gamelle du chat, quand le chat dort. elle il