

# Feuille d'exercices CE1

## Mathématiques CE1

- Calcul mental**

Complète chaque case avec les nombres 0, 1, 2, 3, 4, 5, 6, 7, 8, 9.

En additionnant les nombres, tu dois trouver la même somme dans chaque ligne, chaque colonne et chaque diagonale.

5		3
	4	
5		3

Somme : 12

1		4
7		
4		7

Somme : 12



4		5
	3	
1	6	

Somme : 9

		2
	3	2
4	0	

Somme : 9



		0
0	1	
2		1

Somme : 3

		8
8	5	
2		5

Somme : 15

- Numération



- **Problèmes**

A la pâtisserie, Madame Martin achète une tarte à 17 euros et un gâteau à 26 euros. Elle donne un billet de 50 euros à la vendeuse.

Combien le vendeur va-t-il rendre ?

Dessin :	
	Réponse : _____

Trois frères, Rémi, Jules et Tom font un triathlon en relais. Rémi fait le parcours à la nage, Jules celui à vélo et Tom la course à pied. Voici le temps que chacun a mis :

- Rémi : 15 minutes
- Jules : 23 minutes
- Tom : 18 minutes

Pour être qualifié pour le triathlon suivant, il faut mettre moins de 60 minutes. Les trois frères sont-ils qualifiés ?

Dessin :	Calcul :
	Réponse : _____

- **Calcul**

Pose en colonne et calcule :

$$653 - 85 =$$

$$89 + 456 + 25 =$$

# Français CE1

- Grammaire

## ÉTAPE 3 LES ACCORDS

❖ Complète le texte suivant avec les adjectifs proposés pour qu'il corresponde à la girafe.

*petit, petite, petits, petites      fin, fine, fins, fines      immense, immenses*  
*grand, grande, grands, grandes      long, longue, longs, longues*

6

### JE SUIS LA GIRAFE

Je suis un ..... animal. J'ai un ..... cou, des .....  
oreilles, une ..... queue, des pattes très .....

## ÉTAPE 4 LA PLACE DE L'ADJECTIF

❖ Recopie le texte suivant en ajoutant les adjectifs suivants à leur place dans le texte.

*jaunes, sauvages, grandes, pointues, grosses, belles, noires.*

### 7 QUI SUIS-JE ?

Je suis un animal.  
J'ai des moustaches,  
des griffes.  
Je porte une robe  
à rayures.

8

### JE SUIS LE TIGRE

Je suis .....  
J'ai des .....,  
des .....  
Je porte .....  
à .....et.....

• Lecture compréhension et lecture d'œuvre

**Picasso !**

**Ma petite fiche documentaire**

**Qui était-il ?**

Pablo Picasso s'appelait Pablo Ruiz Blasco. Picasso est le nom de sa mère. C'est un peintre et sculpteur espagnol, né en 1881.

C'est un bon élève qui adorait dessiner, d'ailleurs son père était professeur de dessin ! Il fait sa première exposition à l'âge de seulement 10 ans, à 15 ans il a déjà son atelier. A 19 ans, il visite Paris et décide d'y rester.

Admirant les formes des sculptures africaines, il a commencé à peindre les gens comme de simples formes, telles que des cubes. Il fut d'ailleurs le créateur, avec Georges Braque, d'un mouvement appelé le cubisme. Il décède en 1973



**Que faisait-il ?**

Le **cubisme** est un mouvement artistique. Au début, l'objectif de ces artistes est de représenter des **volumes** alors que la toile est plate. C'est pour cela qu'ils utilisent des formes géométriques, comme des ronds, des carrés ou des losanges. Ils simplifient la réalité pour ne garder que les contours des formes.



Autoportrait ! →

**Quelles œuvres dois-je reconnaître ?**

Les objets sont éclatés en une multitude de facettes, et dessinés séparément. Par exemple, dans la représentation d'un visage, un œil pourra être dessiné plus bas que l'autre. Ils s'exercent à peindre plusieurs points de vue en même tant : de face et de profil !



Les demoiselles d'Avignon

**A qui aurait-il pu serrer la main ?**

Le peintre Henri Matisse, le poète Guillaume Apollinaire étaient ses amis.

Mais il aurait pu serrer la main aux peintre Delaunay et Dali qui vivaient à la même époque.



*Nurono La vie en classe*

Quel est le nom exact de l'artiste dont on parle dans ce documentaire ?

Quelles sont ses dates de naissance et de fin de vie ?

Redonne les différents indices pour reconnaître une œuvre cubiste :

- \_\_\_\_\_
- \_\_\_\_\_
- \_\_\_\_\_
- \_\_\_\_\_
- \_\_\_\_\_



**Portrait de Nusch Eluard de Pablo Picasso**

Réponds aux questions suivantes dans ton cahier.

1. Observe le portrait, que ressens-tu en le voyant ? Est-ce qu'il te plaît ou te met-il mal à l'aise ?
2. Décris cette femme d'après son portrait : son visage, ses cheveux, sa veste, son chapeau,...
3. Aimes-tu ce tableau ? Essaie d'expliquer pourquoi ?

## Corrigés CE1

- Calcul mental

5	<b>4</b>	3
<b>2</b>	4	<b>6</b>
5	<b>4</b>	3

Somme : 12

1	<b>7</b>	4
7	<b>4</b>	<b>1</b>
4	<b>1</b>	7

Somme : 12



4	<b>0</b>	5
<b>4</b>	3	<b>2</b>
1	6	<b>2</b>

Somme : 9

<b>1</b>	<b>6</b>	2
<b>4</b>	3	2
4	0	<b>5</b>

Somme : 9

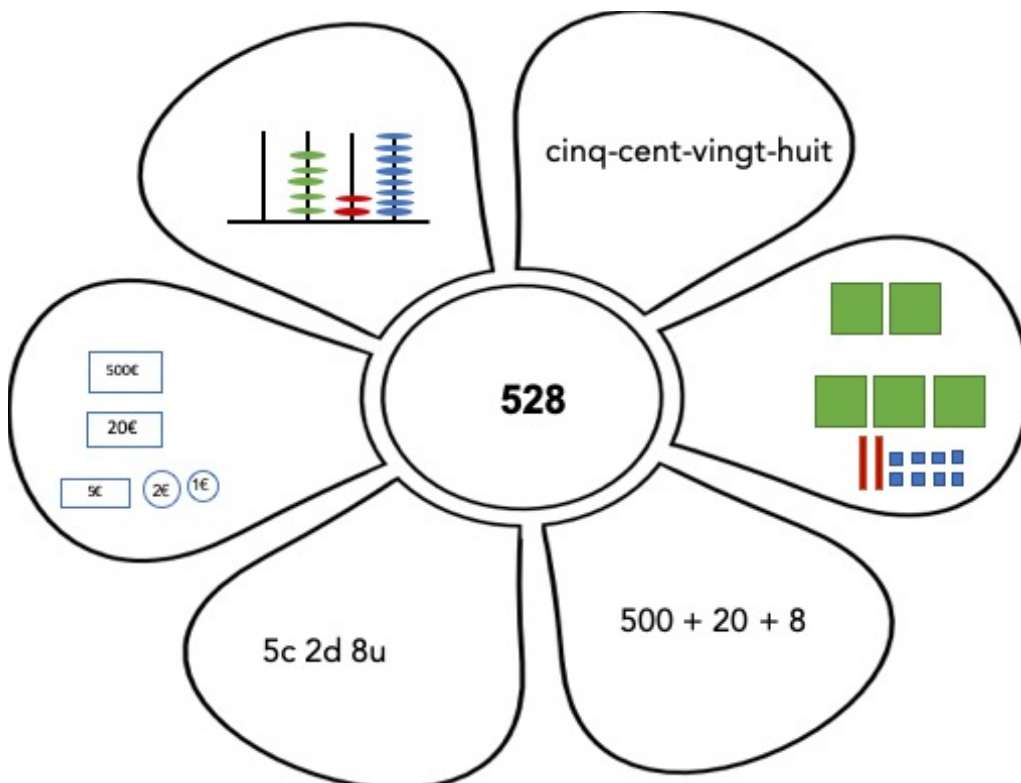
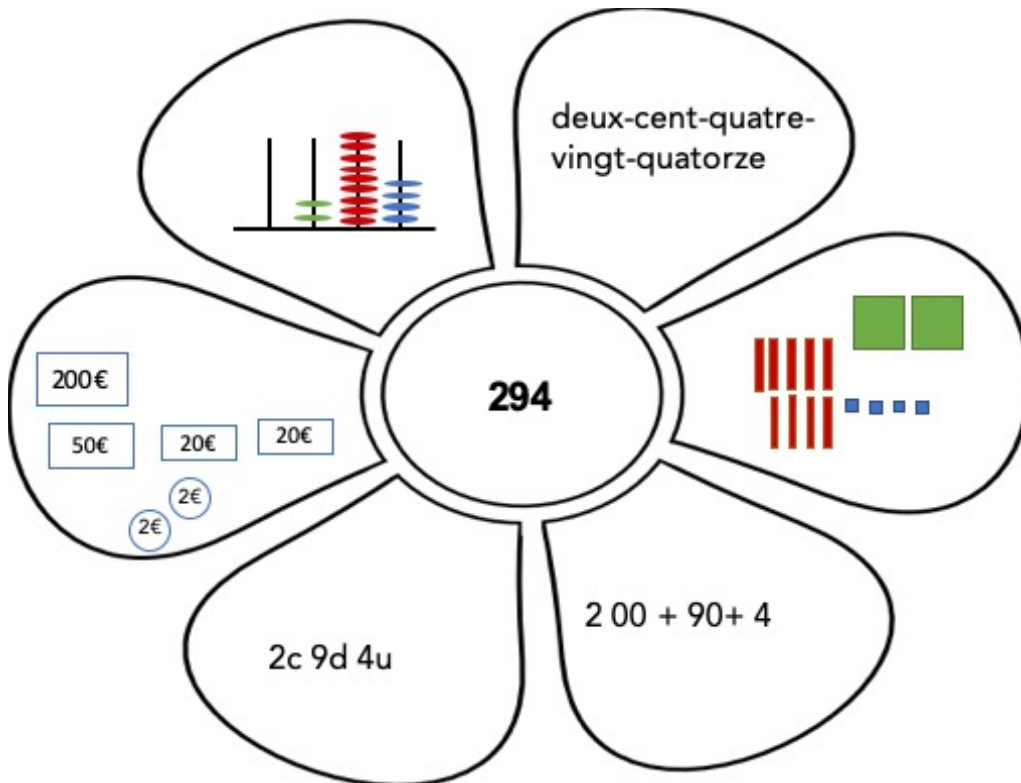
<b>1</b>	<b>2</b>	0
0	1	<b>2</b>
2	<b>0</b>	1

Somme : 3

<b>5</b>	<b>2</b>	8
8	5	<b>2</b>
2	<b>8</b>	5

Somme : 15

- Numération





- Problèmes

Calcul

$$17 + 26 = 43$$

$$50 - 43 = 7$$

Réponse :

Le vendeur va lui rendre 7 €.

Calcul :

$$15 + 23 + 18 = 56$$

Réponse :

Oui ils sont qualifiés car au total leur course a duré 56 min.

- Calcul

$$\begin{array}{r} 6 \quad 15 \quad 13 \\ - \quad +1 \quad 1+8 \quad 5 \\ \hline 5 \quad 6 \quad 8 \end{array}$$

$$\begin{array}{r} \boxed{1} \quad \boxed{2} \\ \quad 8 \quad 9 \\ + \quad 4 \quad 5 \quad 6 \\ + \quad 2 \quad 5 \\ \hline 5 \quad 7 \quad 0 \end{array}$$

- Grammaire

Etape 3 :

Je suis un immense animal. J'ai un grand cou, de fines oreilles, une petite queue, des pattes très longues.

Etape 4 :

Je suis un animal sauvage.

J'ai des grandes moustaches,

des **grosses** griffes **pointues**.

Je porte une **belle** robe

à rayures **noires** et **jaunes**.

- **Lecture compréhension**

Dans ce documentaire, le nom exact de l'artiste est Pablo Ruiz Blasco. Il est connu sous le nom de Picasso.

Picasso est né en 1881 et est décédé en 1973.

Redonne les différents indices pour reconnaître une œuvre cubiste :

- utilisation de formes géométriques
- réalité simplifiée
- utilisation du contour des formes
- objet éclaté en une multitude de facettes
- plusieurs points de vue en même temps