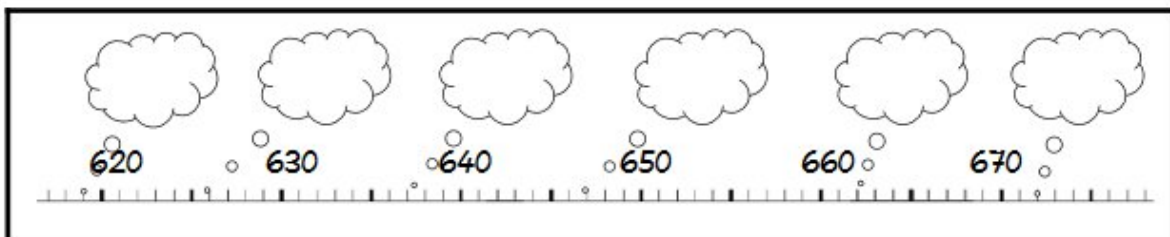
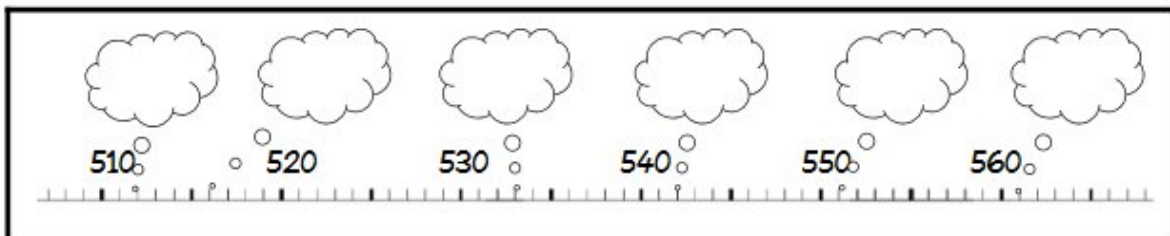
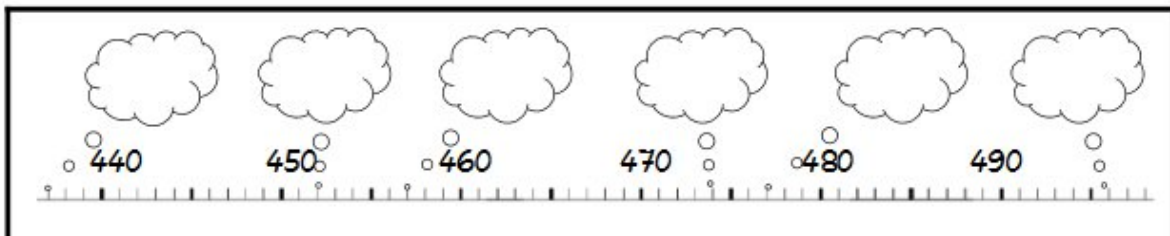
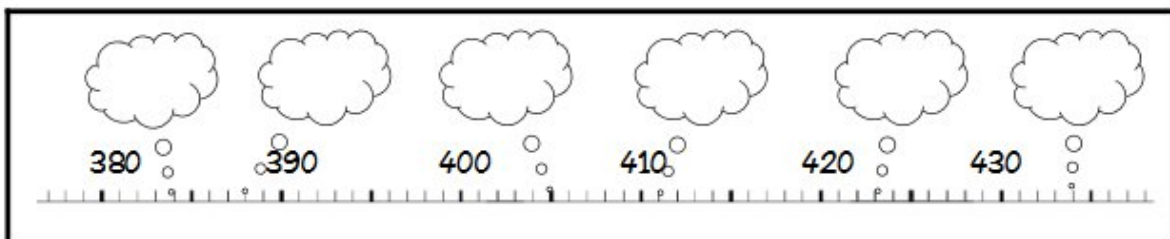
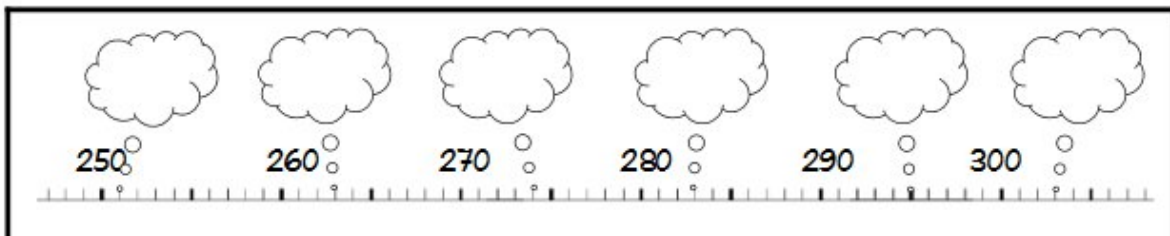
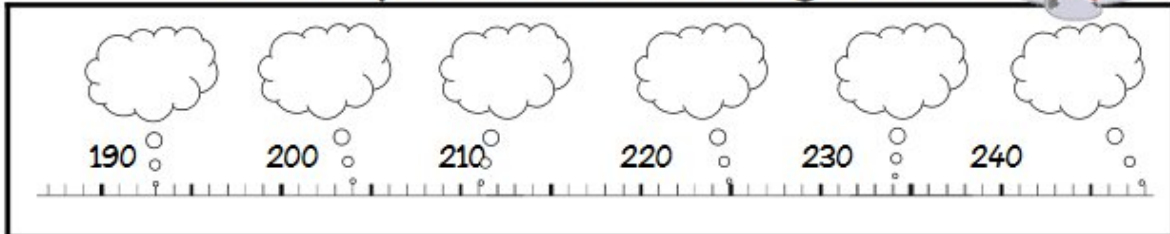


Feuille d'exercices CE1

Mathématiques CE1:

- numération:

Complète les nuages :



• **Problèmes**

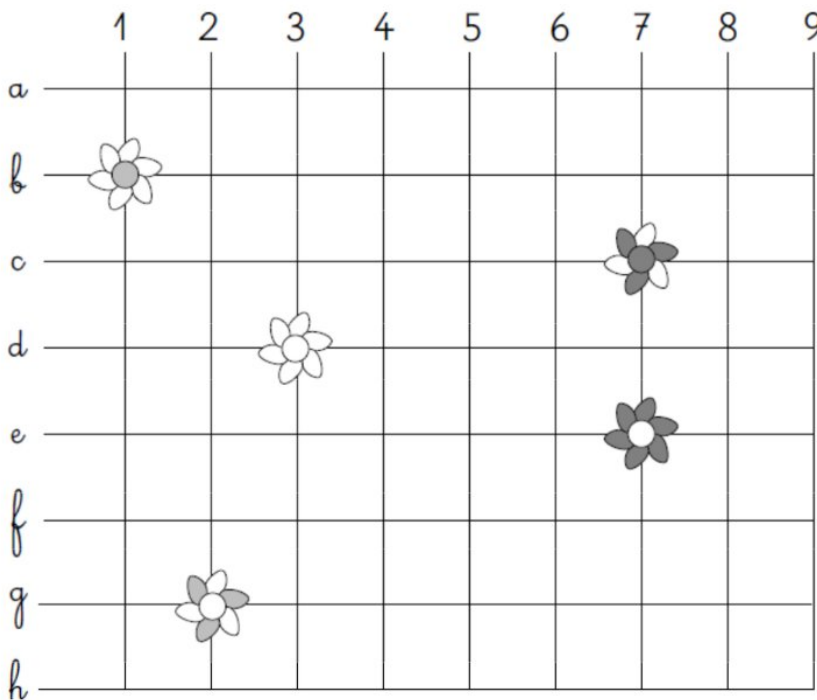
Dans un restaurant, il y a 4 tables de 6 personnes et 7 tables de 4 personnes.

Combien ce restaurant peut-il recevoir de clients ?

Dessin :	Calcul :
	Réponse :

• **Géométrie**

Pour décorer la salle de bain, maman a collé des fleurs sur le carrelage.



Écris le code des nœuds où elle a collé les fleurs.



(...,...)



(...,...)



(...,...)



(...,...)



(...,...)

Dessine d'autres fleurs sur les noeuds dont voici les codes :

(C,5) (B, 8) (D, 1) (F, 5)

Français CE1:

- grammaire

⑥ Sur ton cahier, recopie le texte une première fois en choisissant uniquement les noms masculins. Puis écris-le une deuxième fois avec les noms féminins seulement.

Mon frère / Ma sœur met dans sa valisette / son sac :

- sa serviette / son maillot ;
- un ballon / une brosse à cheveux ;
- son short / sa crème solaire ;
- une compote / un gâteau ;
- une bouteille d'eau / un jus de fruit pour le goûter.

Puis elle / il part pour le stade / la plage.

1. Mon frère met dans

2. Ma sœur met dans

⑥ Recopie les phrases en écrivant tous les noms communs au pluriel.

Pierre lit une histoire.

→


Marie enfile sa chaussette.

→

Maman achète un pantalon.

→

• **vocabulaire**



Horizontal

- 6. Discipline qui étudie les mots, la phrase et son fonctionnement
- 8. Art qui fait intervenir les instruments
- 10. Domaine des mathématiques qui étudie les formes, les volumes des objets
- 12. Exercice qui consiste à écrire les phrases données oralement par le maître
- 13. Domaine des mathématiques qui permet de connaître les distances, les volumes, le temps qui passe ...
- 14. Pratique des formes, des couleurs, des matières, des outils, des techniques
- 15. Qui permet d'obtenir des sommes, des différences, des produits
- 16. Exercice de production de texte pour raconter, informer, fabriquer ...
- 17. Outil numérique moderne pour produire, imprimer des écrits, se documenter
- 18. Discipline qui étudie l'homme, les animaux et les végétaux
- 21. Texte qui joue avec les mots par les rimes
- 22. Discipline qui étudie les verbes

Vertical

- 1. Discipline qui étudie les romans, les albums de jeunesse
- 2. Discipline qui étudie l'écriture d'un mot (lettres qui le composent)
- 3. Discipline qui étudie l'espace occupé par l'homme sur Terre
- 4. Une langue étrangère apprise en classe
- 5. Discipline qui étudie le sens des mots
- 7. Art qui fait intervenir la voix
- 8. Discipline qui joue avec les nombres
- 9. Énoncé qui permet la réflexion, la résolution d'énigmes mathématiques
- 11. Discipline qui raconte l'homme à travers le temps qui passe
- 18. Pratique qui permet de faire travailler son corps (muscles)
- 19. Domaine des mathématiques qui étudie le fonctionnement des nombres
- 20. Discipline qui étudie le fonctionnement des objets

- **lecture compréhension**

Maman a choisi la plus petite de sa série, celle qui a un manche court. Mon œuf à la coque sera bientôt prêt. Quel objet maman a-t-elle utilisé pour la cuisson ?


Dans le lointain, l'horizon rougissait. C'était le coucher du soleil. Au pied de la falaise, les vagues mollissaient comme si la mer elle-même voulait s'endormir. À quel moment de la journée se passe cette histoire ?

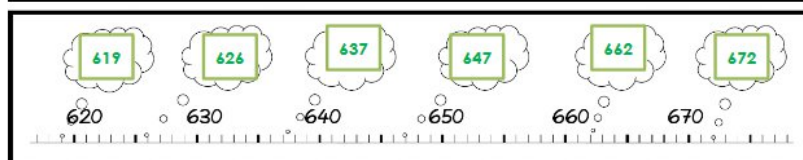
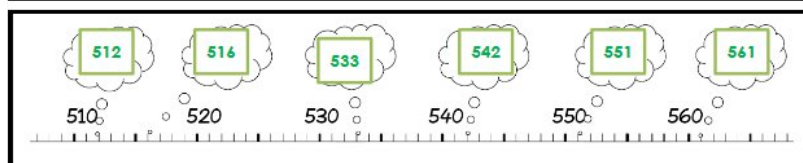
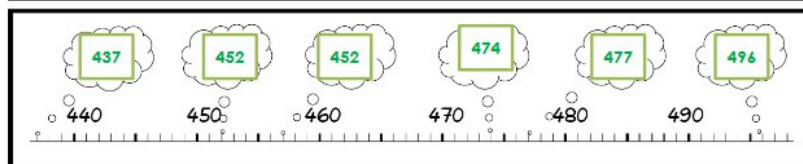
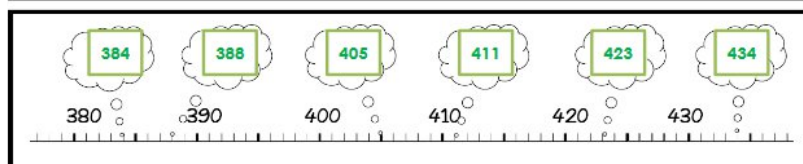
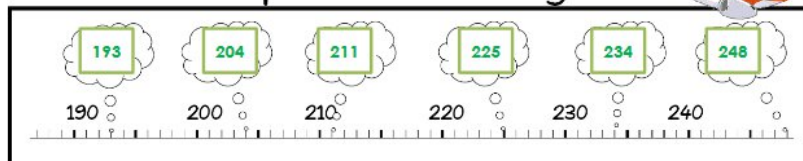
Maman a oublié sa liste et elle est obligée de parcourir tous les rayons. Elle regarde attentivement les prix avant de faire son choix. Elle prend mes céréales préférées et les pose dans le chariot. Où est maman ?

Papa en a acheté une à maman pour son anniversaire. Il y a plein de diamants dessus. Je l'ai essayée mais mes doigts sont trop petits. De quel objet s'agit-il ?

Corrigés CE1

- **Numération :**

Complète les nuages : 



- **Problèmes**

Dessin :

Calcul :

$$4 \times 6 = 24$$

$$7 \times 4 = 28$$

$$24 + 28 = 52$$

Réponse :

Le restaurant peut recevoir 52 personnes.

- **géométrie**

Quadrillage
Niveau 2 fiche 3

Pour décorer la salle de bain, maman a collé des fleurs sur le carrelage.

Écris le code des nœuds où elle a collé les fleurs.

Dessine d'autres fleurs sur les noeuds dont voici les codes :

(C,5) (B,8) (D,1) (F,5)

• Grammaire

Mon frère met dans son sac : son maillot, un ballon, son short, un gâteau, un jus de fruit pour le goûter.
Puis il part pour le stade.

Ma sœur met dans sa valisette : sa serviette, une brosse à cheveux, sa crème solaire, une compote, une bouteille d' eau pour le goûter. Puis elle part pour la plage.

Pierre lit des histoires.

Marie enfile ses chaussettes.

Maman achète des pantalons.

• Vocabulaire

Solutions :

1. Littérature
2. Orthographe
3. Géographie
4. Anglais
5. Vocabulaire
6. Grammaire
7. Chant
8. Mathématiques
9. Problème
10. Géométrie
11. Histoire
12. Dictée
13. Mesure
14. Art
15. Calcul
16. Rédaction
17. Informatique
18. Sciences / Sport
19. Numération
20. Technologie
21. Poésie
22. Conjugaison

• Lecture compréhension

- 1) une casserole
- 2) Le soir
- 3) au supermarché
- 4) une bague