

Nom :

Date :

LES FRACTIONS

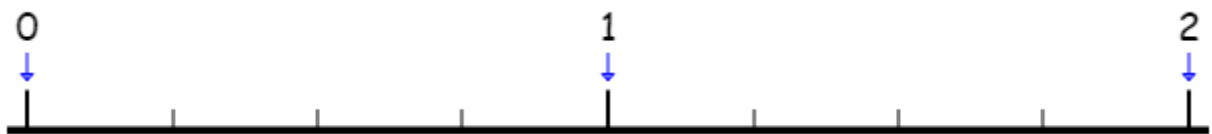
1 Place les fractions suivantes.

$$\frac{2}{8} - \frac{6}{8} - \frac{8}{8} - \frac{4}{8} - \frac{1}{8}$$



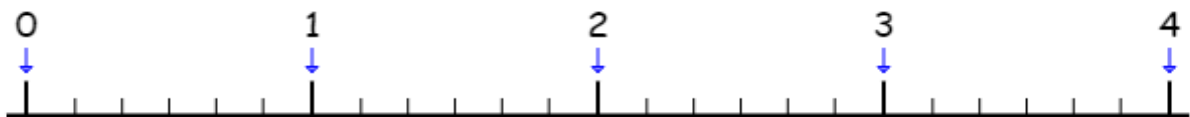
2 Place les fractions suivantes.

$$\frac{3}{4} - \frac{1}{4} - \frac{2}{4} - \frac{4}{4} - \frac{7}{4}$$



3 Place les fractions suivantes.

$$\frac{3}{6} - \frac{1}{6} - \frac{2}{6} - \frac{4}{6} - \frac{7}{6}$$

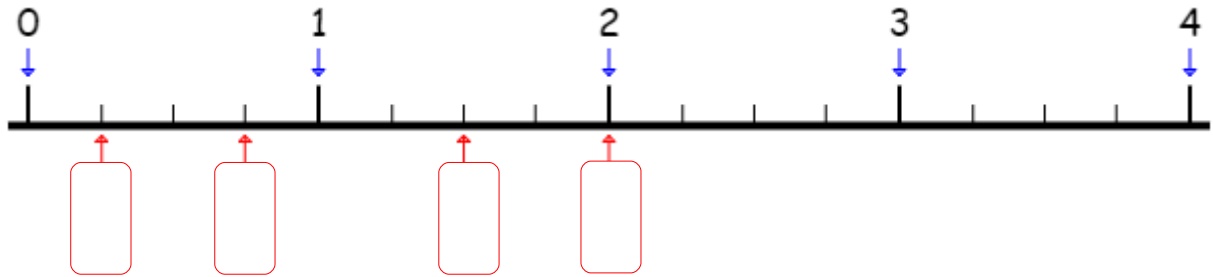


Nom :

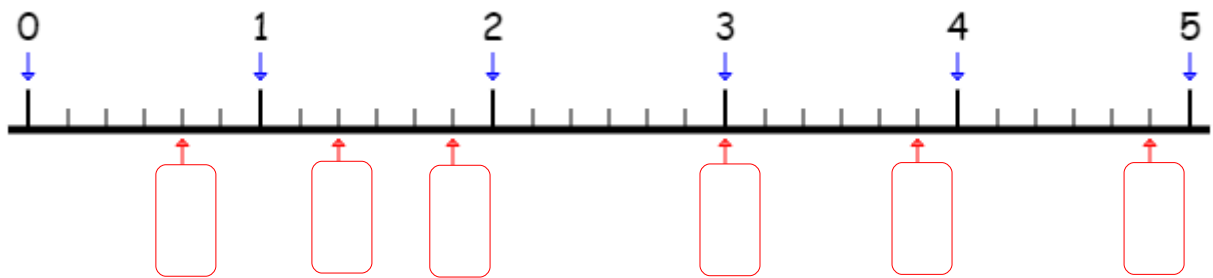
Date :

Les fractions

1 Écris les fractions correspondant aux repères.



2 Écris les fractions correspondant aux repères.



3 Place les fractions suivantes.

