


Correction de le feuille des exercices de jeudi 23 et vendredi 24 avril

Jeudi 23 avril

Géométrie : Classe ces triangles, visuellement en plusieurs catégories.



| Triangle rectangle | Triangle équilatéral | Triangle isocèle |
|--------------------|----------------------|------------------|
| 8 | 2, 3, 4, 6, 7 | 1, 5, 9 |

Vendredi 24 avril

Rituel : exemple de phrases avec un adjectif qualificatif :

J'ai bu un chocolat **chaud** pour le goûter.

Cette tenue est **magnifique**.

Je regarde les matchs de football depuis que je suis tout **petit**

Ce qui ressort de cette peinture sont les fleurs **multicolores**.

Organisation des données

Cherchons ensemble



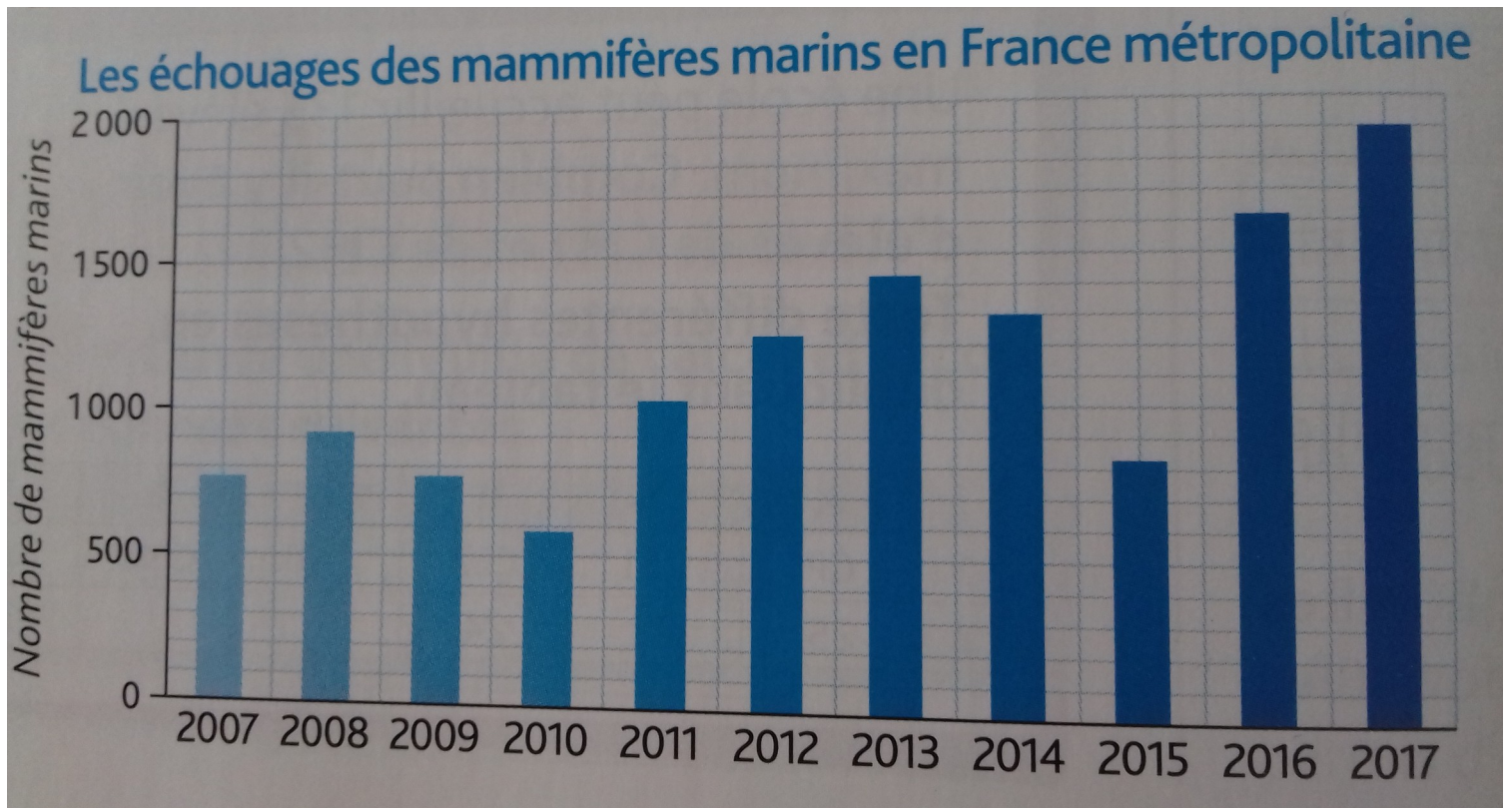
Garance est élève au collège Olympe-de-Gouges. Voici son emploi du temps.

| | Lundi | Mardi | Mercredi | Jeudi | Vendredi |
|-------------------|--|--|-------------------------|--|----------|
| 8 h 00 – 9 h 00 | | Arts plastiques | | Anglais | |
| 9 h 00 – 10 h 00 | Anglais | Mathématiques | Sciences et technologie | Français | Français |
| 10 h 00 – 11 h 00 | EPS | Anglais | Mathématiques | Mathématiques | EPS |
| 11 h 00 – 12 h 00 | EPS | Français | Français | Sciences et technologie | EPS |
| 12 h 00 – 13 h 00 | | | | | |
| 13 h 00 – 14 h 00 | | | | | |
| 14 h 00 – 15 h 00 | Français | Éducation musicale | | Histoire-géographie Enseignement moral et civique | Anglais |
| 15 h 00 – 16 h 00 | Histoire-géographie Enseignement moral et civique | Histoire-géographie Enseignement moral et civique | | Sciences et technologie | |
| 16 h 00 – 17 h 00 | Mathématiques | | | | |

- a. Quel jour Garance a-t-elle cours d'arts plastiques ? À quelle heure ?
- b. Combien d'heures de sport a-t-elle par semaine ?
- c. Le professeur de mathématiques est absent le lundi 30 septembre. À quelle heure Garance pourrait-elle sortir du collège ce jour-là ?
- d. Quels sont les jours où Garance commence les cours à 9 h ?
- e. Quel est le jour où Garance travaille le moins ?

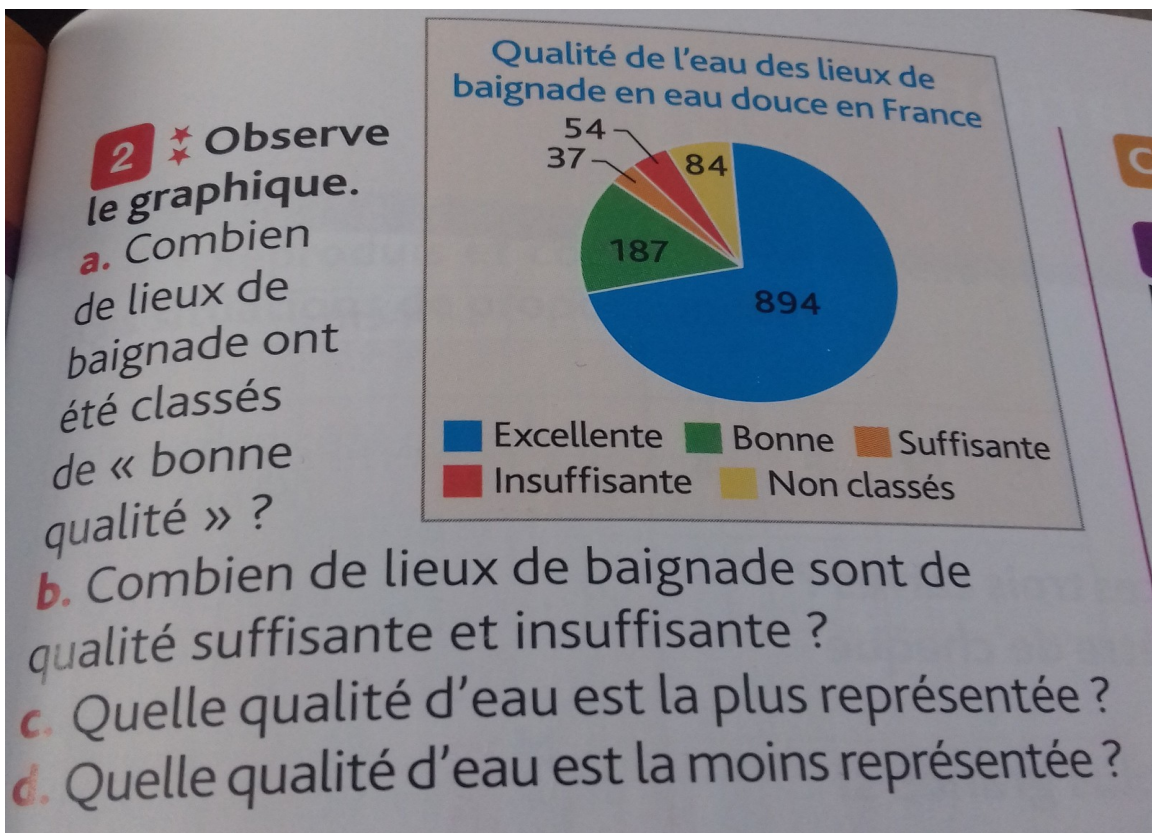
- A) Garance a cours d'arts plastiques le mardi de 8h à 9h.
- B) Elle a 4h de sport par semaine.
- C) Garance pourra sortir à 16h car habituellement le cours de mathématiques a lieu de 16h à 17h.
- D) Garance commence les cours à 9h les lundis, mercredis et vendredis.
- E) Garance travaille moins dans la journée de mercredi.

Exercice 2



- A) En quelle année a-t-on recensé le plus d'animaux échoués ? *En 2017 (c'est la barre la plus haute).*
- B) combien d'animaux marins se sont échoués en 2014 ? *1300 car chaque carreau représente une intervalle de 100.*
- C) En quelle année, le nombre de mammifères marins échoués a-t-il dépassé le millier ? *En 2011, la barre atteint 1000 pour la première fois.*
- D) Compare les années 2007 et 2009. Que peux tu dire ? *Les deux barres se terminent à la même hauteur ce qui signifie qu'il y a eu le même nombre de mammifères marins échoués en 2007 et en 2009.*

Exercice 3



A) Il y a 187 lieux de baignades classés « bonne qualité » cela correspond à la partie verte dans le graphique que l'on appelle camembert.

B) Il y a 37 lieux de baignades jugés « suffisante », partie orange et 54 sont de nature « insuffisante », partie rouge.

C) La quantité d'eau la plus représentée est colorée en bleu, il s'agit de la qualité d'eau jugée excellente.

D) La quantité d'eau la moins représentée est colorée en orange, il s'agit de la qualité d'eau jugée suffisante.

Dictée : Réécris ces phrases au pluriel

Le landau de ma sœur est gris. *Les landaus de ma sœur sont gris .*

Ce jouet fonctionne avec une pile. *Ces jouets fonctionnent avec des piles.*

Ce gâteau d'anniversaire semble très bon. *Ces gâteaux d'anniversaire semblent très bons.*

Il faut changer le pneu de ma voiture. *Il faut changer les pneus de ma voiture.*

Ce charmant rideau est en velours. *Ces charmants rideaux sont en velours*

Calcul mental : Parmi ces nombres, entoure lesquels sont des multiples de 2 . Entoure les !

145 230 123 751 963 425 102 7589 7666 302 308 806 744
751 888 862 4123 4512 698 421 142 250 136 458 140 145 183 175

- 1) Comment puis-je obtenir 50 en multipliant deux chiffres ? Il ne faut pas utiliser 5. *On peut trouver 2 X 25*
- 2) Comment puis-je obtenir 42 en multipliant deux chiffres ? Il ne faut pas utiliser 6 *On peut trouver 2 X 21*
- 3) Comment puis-je trouver 48 en multipliant deux chiffres ? Il ne faut pas utiliser 6 *On peut trouver 2 X 24*
- 4) Comment puis-je trouver 86 en multipliant deux chiffres ? *On peut trouver 2 X 43*

Conjugaison :

Il **est parti** ce matin très tôt dès que le soleil **s'est levé**. Il **n'est** pas beaucoup **réveillé** mais tout de suite il **a eu** faim. Il **a** alors **mangé** deux croissants et **a avalé** un verre de jus d'orange. Il **a pris** le bus et il **est allé** à l'école. Durant la matinée il **a travaillé** : il **a fait** de la géographie, des mathématiques puis il **a eu** musique. Son moment préféré de la journée **reste** quand même la récré. Après la fin de l'école, il **est rentré** puis **s'est préparé** pour aller jouer au basket-ball. Il **a mis** 5 paniers et **a empêché** l'équipe adverse de marquer. Il **a fini** sa journée en récitant ses leçons à ses parents, puis **s'est endormi** paisiblement dans son lit.

Parmi les verbes conjugués, il y a un verbe au présent : reste. Les autres verbes sont accompagnés par l'auxiliaire être ou l'auxiliaire avoir. C'est un temps que nous allons étudié maintenant à savoir le passé composé .