

Vendredi 20 mars 2020  
CE2 B

### Rituel

Qu'est-ce que c'est ?

Observe bien l'image présentée sur la seconde page et tâche de deviner s'il s'agit :

D'un ballon rempli d'eau qui explose.

### Phrase du jour

Zoé et Wassim ne peuvent pas raconter leur  
NC  
aventure.

1. Copie la phrase, souligne le sujet en rouge et entoure le verbe en vert.
2. Verbe à l'infinitif et pronom personnel.  
> POUVOIR > Ils
3. Conjugue le verbe à toutes les personnes au présent de l'indicatif : je peux, tu peux, il peut, nous pouvons, vous pouvez, ils peuvent

### Dictée

Demande à un adulte de te dicter le texte suivant, puis relis toi :

*Le duc, protecteur du royaume, franchit le fleuve dans la boue. Les canons traversent les vignes pour attaquer de loin les murailles. Dans la tour, un guetteur intervient en faisant tirer sur les soldats qui sont déjà dans la cour.*

Apprends les 5 premiers mots de L31 en les copiant 3 fois : clou – offre – voici – bande – si

### Problème

$$\begin{array}{r} \dots + 16 = 48 \text{ fleurs} \\ 48 \\ - 16 \\ \hline 32 \end{array}$$

J'avais 32 fleurs avant.

### Grammaire

1. Recopie ces mots en complétant avec g ou gu pour obtenir le son [g].  
une guitare – un gaffe – un guidon – une langue – glisser – la fatigue – un goûter – une collègue – une guerre.
2. Recopie ces mots en complétant avec g ou ge pour obtenir le son [ʒ].  
un gilet – un piège – une nageoire – un cageot – une orangeade – un juge – un géant – un lange

### EPS

Voilà 25 minutes pour te défouler :

[https://www.youtube.com/watch?v=Yt0wuk\\_bOXI](https://www.youtube.com/watch?v=Yt0wuk_bOXI)

### Mathématiques

Découverte de la multiplication à deux chiffres

4. Entraîne toi :

$$\begin{array}{r} 41 \\ \times 26 \\ \hline 246 \\ + 820 \\ \hline 1066 \end{array} \qquad \begin{array}{r} 34 \\ \times 15 \\ \hline 170 \\ + 340 \\ \hline 510 \end{array}$$

### Histoire de l'art/Lecture

Observe l'œuvre de Georges Seurat sur la dernière page.

Accompagné(e) d'un adulte, répond à l'oral aux questions 1 à 3. > page suivante


Ecris un court texte de 5 lignes pour donner ton avis sur ce tableau (question 4).

> correction à la rentrée.



### Défi arts plastiques

Comme Georges Seurat, réalise une œuvre en utilisant la technique du pointillisme (pointe de feutres ou peinture et cotons-tiges). Je te conseille de ne pas choisir un support trop grand.

## Le Cirque – Georges Seurat



Ce tableau, peint en 1891, représente le numéro de l'écuyère\* du cirque Fernando.



Georges-Pierre Seurat (1859 – 1891) est un peintre français, créateur du pointillisme.

C'est un procédé qui consiste à peindre par juxtapositions de petites touches de couleurs primaires et complémentaires afin d'obtenir une image. Ce tableau mesure 181 cm sur 152 cm. Il a été réalisé en 1891.



1. Quelle est la taille de ce tableau ?

**Ce tableau mesure 181 cm sur 152 cm (1,81 m sur 1,52m).**

2. Quel est le procédé qu'utilise Georges Seurat ?

**Le procédé utilisé par Georges Seurat est le pointillisme.**

3. En quelle année Seurat a-t-il peint ce tableau ?

**Seurat a peint ce tableau en 1891.**

*\*Personne qui monte bien à cheval. Personne qui exécute des exercices équestres dans un cirque.*