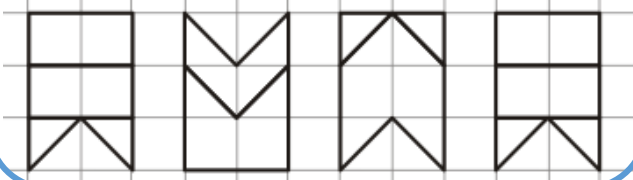


Lundi 23 mars 2020

CE2 B - **Corrigés**

Rituel de géométrie

Reproduis la frise géométrique suivante sur ta feuille du jour ou ton cahier.



Phrase du jour

Leurs parents vont faire les courses.

1. Souligne le sujet en **rouge** et entoure le verbe en **vert**.
2. Infinitif du verbe et pronom personnel.
> **ALLER** > **Ils**
3. Conjugue le verbe : **je vais, tu vas, il va, nous allons, vous allez, ils vont**
4. Indique d'un **D** les déterminants, et d'un **NC** les noms communs.

Révision en autonomie

Révisé les tables de 8, 9, 10 et 11 en autonomie pendant **9 minutes**.

N'hésite pas à les écrire sur un cahier ou une ardoise pour savoir si tu les connais.

Si tu en as la possibilité, tu peux t'entraîner sur le site calcul@TICE.

Problème

Bruno possède 150 billes. Son ami en a le double.

Combien de billes possèdent-ils à **EUX DEUX** ?

$$\text{Son ami a } 150 \times 2 = 300$$

$$300 + 150 = 450$$

A eux deux, ils possèdent 450 billes.

Dictée

Dictée flash : Demande à un adulte de dicter :

Le duc franchit le fleuve dans la boue pour protéger le royaume.

Relie toi. Pense au « chemin de la relecture ».

Apprend, en les copiant 5 fois, les 5 derniers mots de la L18 : *intervenir – protecteur – tour – cour – loin*

Orthographe

1. Récris les phrases en mettant les mots soulignés au pluriel.
 - a. Les vaches regardent passer **les trains**.
 - b. Lola a reçu **des poupées** pour sa fête.
 - c. J'aime me promener dans **les bois**.
 - d. Je dors avec **des oreillers**.
 - e. Cet été j'ai visité **des pays** d'Asie.
2. Recopie les phrases en écrivant les noms au pluriel avec -als, -aux, -s ou -x.
 - a. Février est le mois des **carnavals**.
 - b. Ses **joujoux** traînent partout.
 - c. Les péniches circulent sur les **canaux**.
 - d. Le gruyère est un fromage plein de **trous**.

Mathématiques

1. Chronomath n°6 : demande à un adulte de te chronométrer. Tu as 3min pour réaliser le plus de calcul possible.


Si tu n'as pas d'imprimante à la maison, demande à un adulte de reporter les calculs sur une feuille avant de commencer.

2. Dessine le moins de pièces et billets possible pour payer ces objets.

> **correction page suivante.**



3. Quelle somme Max a-t-il dans son porte-monnaie ? **147€**



QLM : Espace

Apprendre la leçon E3.

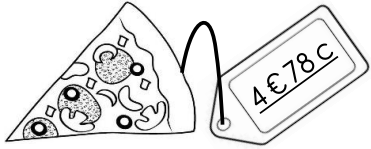
Lecture

Je t'ai donné des gammes de lecture avant de quitter l'école. > **à apporter à la rentrée.**

Anglais

Voir page suivante.

Mathématiques



2€

2€

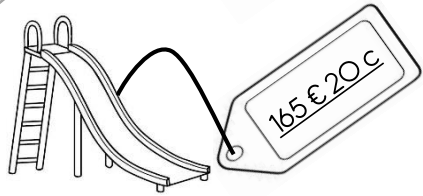
50c

20c

5c

2c

1c



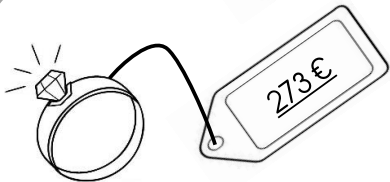
100€

50€

10€

5€

20c



200€

50€

20€

2€

1€

Anglais

1. De mémoire, remplis cet exercice de mots fléchés en indiquant les nombres en anglais.

1 : one

6 : six

2 : two

7 : seven

3 : three

8 : eight

4 : four

9 : nine

5 : five

10 : ten

1. Colorie les ballons de la bonne couleur :

1 = 

2 = 

3 = 

4 = 

5 = 

6 = 

7 = 

8 = 

9 = 

10 = 

ENJOY !