

Vendredi 20 mars 2020

CE2 B - **Corrigés**

### Rituel

**Qu'est-ce que c'est ?**

Observe bien l'image présentée sur la seconde page et tâche de deviner s'il s'agit :

**Du cœur d'une fleur de tournesol.**

### Phrase du jour

Aujourd'hui, <sup>D</sup> les marins <sup>NC</sup> prennent <sup>D</sup> la mer. <sup>NC</sup>

1. Copie la phrase, souligne le sujet en **rouge** et entoure le verbe en **vert**.
2. Indique l'infinitif du verbe que tu as entouré.  
**PRENDRE**
3. Conjugue le verbe au présent de l'indicatif :  
**je prends, tu prends, il prend, nous prenons, vous prenez, ils prennent**
4. Indique d'un **D** les déterminants, et d'un **NC** les noms communs.

### Dictée

Demande à un adulte de te dicter les mots invariable de la liste 15.

**Les mots mal orthographiés doivent être écrits 3 fois.**

### Problème

Clara a 43€ dans sa tirelire.  
Elle possède 25€ de moins que Sofia.  
Combien possède Sofia ?

*Je me demande qui a le plus d'argent > Clara a moins d'argent que Sofia (25€ de moins).  
Je dois donc additionner 25€ à ce que possède Clara.  
 $43€ + 25€ = 68€$   
Sofia a 68€ dans sa tirelire.*

### Grammaire

1. Recopie sur ta feuille les phrases négatives et corrige les erreurs s'il y en a.
  - a. Je n'aime pas le café.
  - b. Mon ordinateur n'est plus en panne.
  - d. Les vacanciers n'étaient pas encore arrivés.
  - e. Il n'était jamais content.
2. Transforme ces phrases à la forme négative.
  - a. Je n'ai pas acheté de gâteau.
  - b. Tu n'as pas vu la mer.
  - c. Il n'a plus des billes.
  - d. Elle ne va jamais à la piscine.
  - e. Mon frère ne casse rien.

### Calcul mental

Compte à rebours de 5 en 5 à partir de 128.  
 $128 - 123 - 118 - 113 - 108 - 103 - 98 - 93 - 88 - 83 - 78 - 73 - 68 - 63 - 58 - 53 - 48 - 43 - 38 - 33 - 28 - 23 - 18 - 13 - 8 - 3$

### Mathématiques

1. Dictée de nombres : **3 120, 7 015, 9 098**
2. Ecris les nombres de la dictée en lettres.
  - **Trois-mille-cent-vingt**
  - **sept-mille-quinze**
  - **neuf-mille-quatre-vingt-dix-huit**
3. Trouve 3 décompositions du nombre 50.  
**On pouvait trouver par exemple :**  
 $50 = 25+25$      $50 = 30+20$      $50 = 40+10$   
Mais il y a bien d'autres possibilités
4. Pose et calcule :  

	①
6	5
x	3
<hr/>	
1	9 5

	①
4	2
x	5
<hr/>	
2	1 0
5. Reproduis une figure du fichier « Repro ». - > **correction à la rentrée**

### Histoire de l'art

Observe l'autoportrait\* de Frida Kahlo sur la page suivante.

Lis les phrases notées dessous et dis si elles sont justes ou fausses. - > **voir page suivante**


Ecris un court texte de 5 lignes pour donner ton avis sur ce tableau. Attention à ton orthographe. -> **correction à la rentrée**

\*Portrait d'un artiste réalisé par lui-même,


### Défi arts plastiques

Comme Frida Kahlo, réalise ton autoportrait.

Qu'est-ce que c'est ?




## Lecture de phrases Au musée niveau 2



9

Autoportrait, Frida Kahlo



- 1) L'artiste s'est représentée avec des fleurs dans les cheveux et un grand sourire. **F**
- 2) Deux oiseaux portant une crête bleue encadrent cet autoportrait. **V**
- 3) Frida Kahlo a d'épais sourcils noirs qui se rejoignent au dessus de son nez. **V**
- 4) Ses cheveux sont tressés avec un ruban rose. **F**
- 5) Les fleurs qui encadrent l'autoportrait sont peintes dans des couleurs vives et gaies. **V**
- 6) Le visage de Frida Kahlo est peint sur un fond jaune. **F**